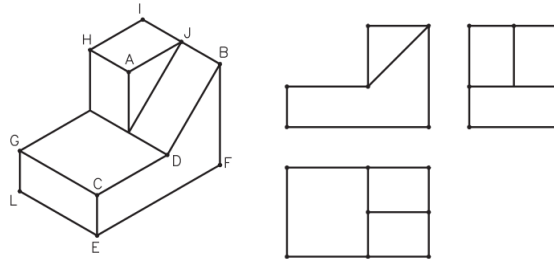
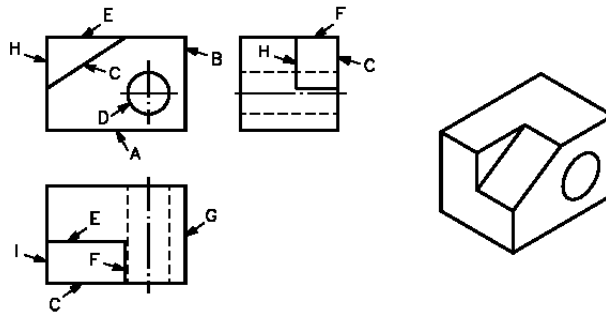


## Lista de exercícios 1

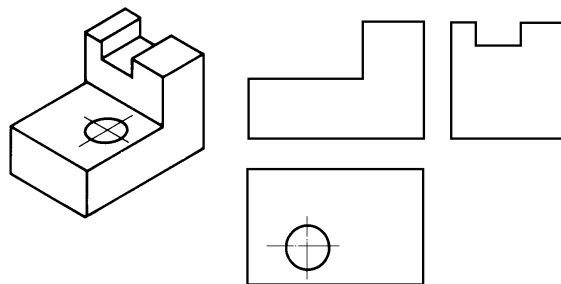
1. Encontre nas vistas ortográficas a posição correspondente das letras que aparecem na vista isométrica abaixo:



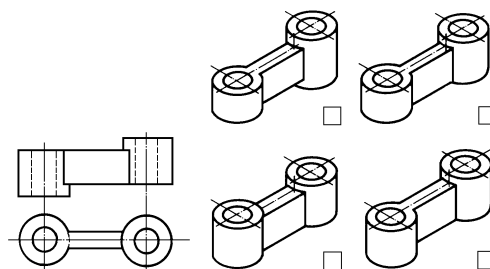
2. Encontre na vista isométrica a posição correspondente das letras que aparecem nas vistas ortográficas abaixo:




3. Complete as vistas ortográficas abaixo com as linhas que estão faltando:



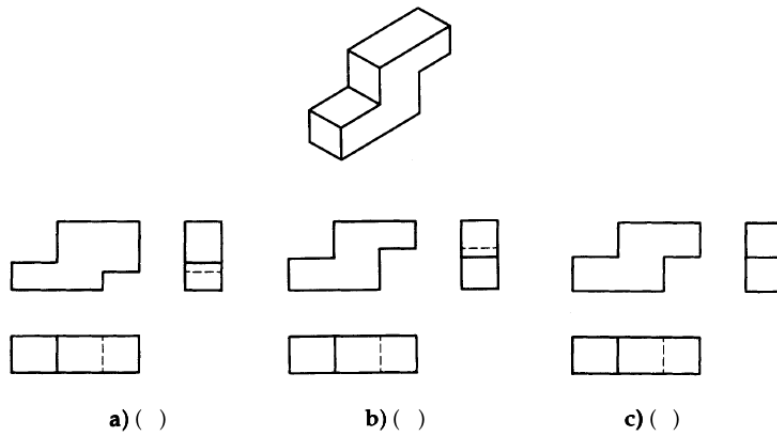
4. Marque qual das vistas isométricas corresponde às vistas ortográficas abaixo:



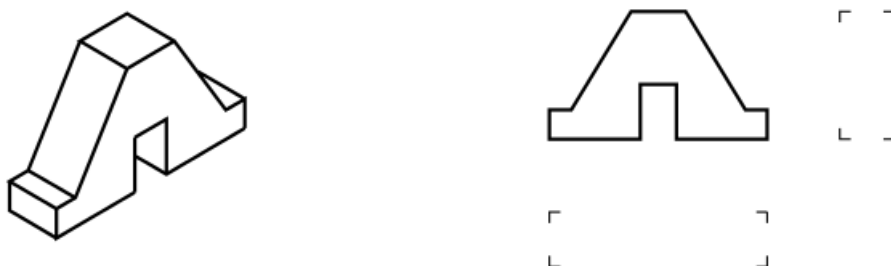
5. Associe as vistas isométricas com as vistas ortográficas abaixo:



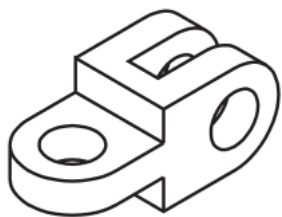
6. Analise a projeção isométrica da figura abaixo e assinale as vistas ortográficas correspondentes:



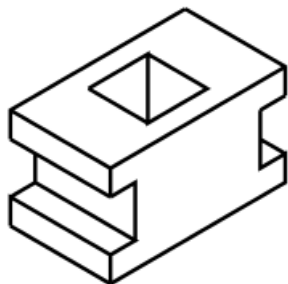
7. Analise a projeção isométrica do objeto abaixo e complete as vistas que faltam:



8. Analise a projeção isométrica do objeto abaixo e desenhe as vistas frontal, superior e lateral esquerda:



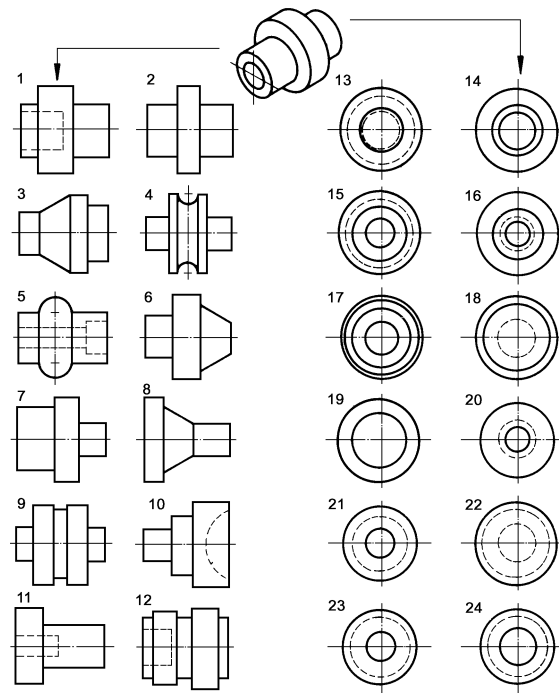
9. Analise a projeção isométrica do objeto abaixo e desenhe as vistas frontal, superior e lateral esquerda:



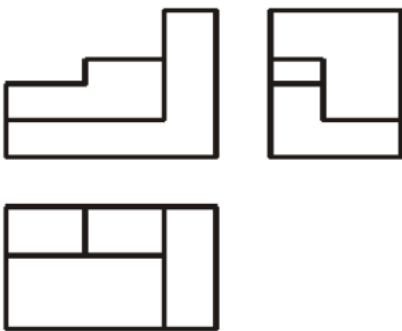
10. Associe as vistas dadas preenchendo a tabela abaixo:

1 =	15
2 =	
3 =	
4 =	
5 =	
6 =	
7 =	
8 =	
9 =	
10 =	
11 =	
12 =	

11. Associe as vistas dadas preenchendo a tabela abaixo:



12. Desenhe a vista isométrica do objeto abaixo:



13. Desenhe a vista isométrica do objeto abaixo:

